

Рис. 4.29

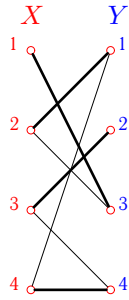


Рис. 4.30

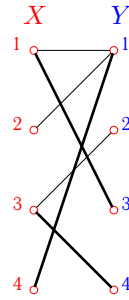


Рис. 4.31

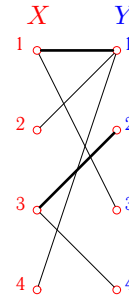


Рис. 4.32

З а м е ч а н и е 1. Паросочетание на рис. 4.28 не единственное. Имеется еще одно наибольшее (3 ребра) паросочетание (рис. 4.31). Множества вершин, не входящие в паросочетание, — это $X_m = \{x_2\}$ и $Y_m = \{y_2\}$. При этом множества X' и Y' не изменятся:

$$X' = \{x_2, x_4\}, \quad Y' = \{y_1\}.$$

З а м е ч а н и е 2. Паросочетание на рис. 4.28 сразу оказалось наибольшим. Однако можно было бы выбрать и не наибольшее, но максимальное паросочетание (рис. 4.32). В этом случае, обратив чередующуюся цепь x_4, y_1, x_1, y_3 (толстые ребра меняются на тонкие, и наоборот), получим наибольшее покрытие (рис. 4.31).

4.6. Остов наименьшего веса

Остовом графа G называют граф, не содержащий циклов и состоящий из ребер графа G и всех его вершин. Таким образом, остов графа является деревом. Число ребер остова равно рангу графа ($\nu^* = n - k$). Число остовов графа можно вычислить по матрице Кирхгофа (см. с. 76).

З а д а ч а. Дан взвешенный граф (рис. 4.33). Найти число остовов графа и остов графа минимального веса.

В таблице ответов на с. 76 даны веса ребер минимального остова, суммарный вес остова Σ и число остовов графа n_0 .

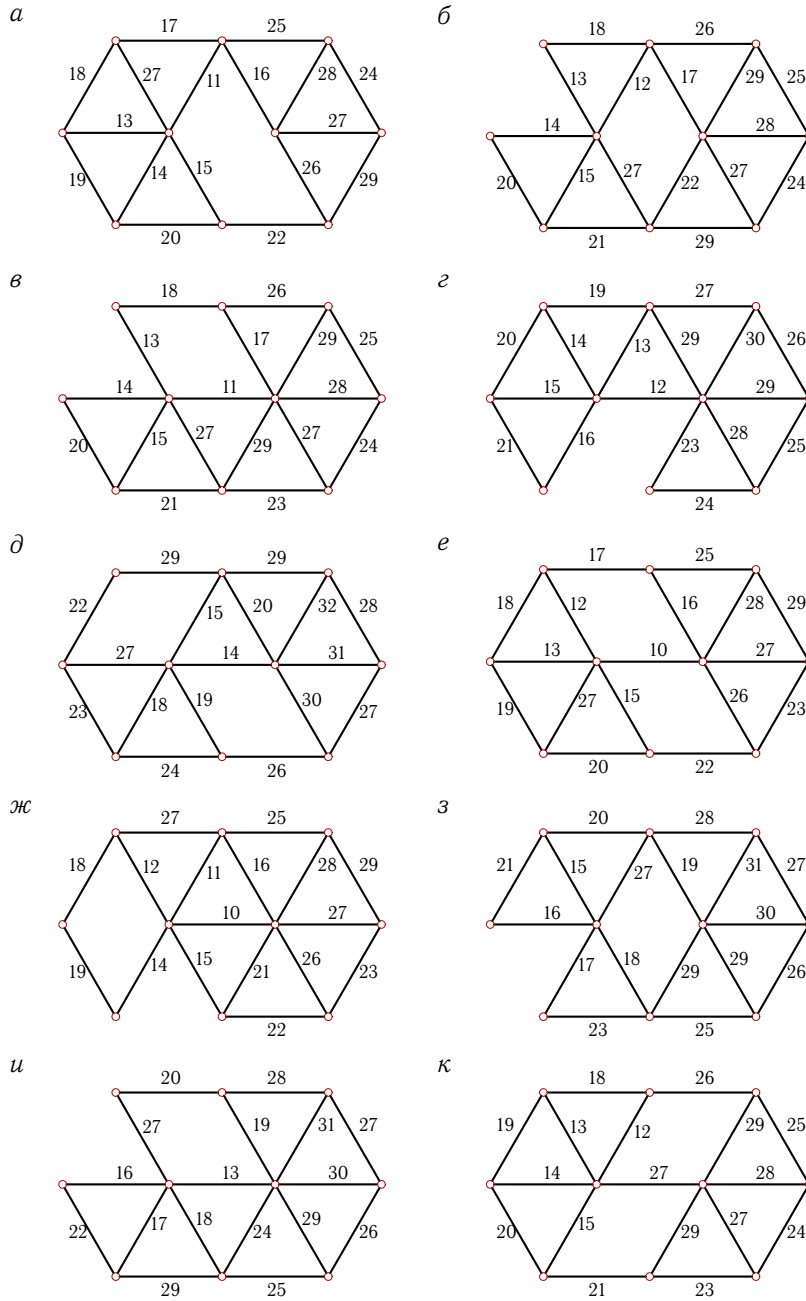


Рис. 4.33

Ответы

№	Веса ребер остова	Σ	n_0
а	16, 11, 13, 14, 15, 17, 22, 25, 24	157	3861
б	17, 12, 13, 14, 15, 21, 26, 25, 24	167	3289
в	11, 13, 14, 15, 17, 21, 23, 24, 25	163	3115
г	12, 13, 14, 15, 16, 23, 24, 25, 26	168	2584
д	14, 15, 18, 19, 23, 22, 26, 27, 28	192	3910
е	10, 12, 13, 15, 16, 19, 22, 23, 25	155	4095
ж	10, 11, 12, 14, 15, 18, 22, 23, 25	150	2944
з	19, 20, 15, 16, 17, 18, 25, 26, 27	183	3289
и	13, 16, 17, 18, 19, 20, 25, 26, 27	181	3115
к	27, 12, 13, 14, 15, 21, 23, 24, 25	174	4095

Пример. Дан взвешенный граф (рис. 4.34).

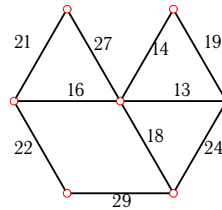


Рис. 4.34

Найти число остовов графа и остов графа минимального веса (экстремальное дерево).

Решение. *Число остовов графа.* Число остовов графа можно вычислить по его матричным характеристикам. Известна следующая теорема.

Теорема 18 (Кирхгофа¹). *Число остовов графа равно алгебраическому дополнению любого элемента матрицы Кирхгофа.*

Элементы матрицы Кирхгофа B графа G определяются следующим образом. Если вершины i и j графа G смежны, то $b_{ij} = -1$, а если вершины i и j не смежны, то $b_{ij} = 0$. Диагональные элементы матрицы Кирхгофа B равны степеням вершин: $b_{ii} = \deg(i)$. Очевидно свойство: сумма элементов в каждой строке и каждом столбце матрицы Кирхгофа равна 0. Известно также, что алгебраические дополнения всех элементов матрицы Кирхгофа равны, а ранг матрицы Кирхгофа

¹Kirchhoff G. (1824–1887гг.) — немецкий физик и механик.

неографа порядка n можно вычислить по формуле $\text{rank } B = n - k$, где k — число компонент графа.

Пронумеруем вершины графа (рис. 4.35).

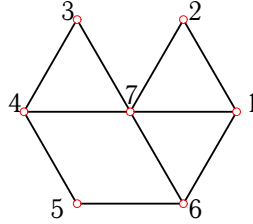


Рис. 4.35

В соответствии с определением запишем матрицу Кирхгофа:

$$B = \begin{bmatrix} 3 & -1 & 0 & 0 & 0 & -1 & -1 \\ -1 & 2 & 0 & 0 & 0 & 0 & -1 \\ 0 & 0 & 2 & -1 & 0 & 0 & -1 \\ 0 & 0 & -1 & 3 & -1 & 0 & -1 \\ 0 & 0 & 0 & -1 & 2 & -1 & 0 \\ -1 & 0 & 0 & 0 & -1 & 3 & -1 \\ -1 & -1 & -1 & -1 & 0 & -1 & 5 \end{bmatrix}.$$

Рассмотрим минор элемента $b_{1,1}$:

$$m_{1,1} = \begin{bmatrix} 2 & 0 & 0 & 0 & 0 & -1 \\ 0 & 2 & -1 & 0 & 0 & -1 \\ 0 & -1 & 3 & -1 & 0 & -1 \\ 0 & 0 & -1 & 2 & -1 & 0 \\ 0 & 0 & 0 & -1 & 3 & -1 \\ -1 & -1 & -1 & 0 & -1 & 5 \end{bmatrix}.$$

Вычислим определитель: $\det m_{1,1} = 79$. Таким образом, граф имеет 79 остовов, среди которых надо выбрать экстремальное дерево, т.е. дерево, обладающее некоторыми экстремальными свойствами, в данном случае — минимальным весом.

Заметим, что матрицу Кирхгофа можно найти, используя формулу

$$B = II^T - 2A, \quad (4.1)$$

где I и A — матрицы инцидентности и смежности графа. Матрицу инцидентности запишем для следующей последовательности номеров ребер: $(3, 7)$, $(6, 7)$, $(1, 2)$, $(6, 1)$, $(5, 6)$, $(3, 4)$, $(2, 7)$, $(4, 7)$, $(1, 7)$, $(4, 5)$. Строки матрицы инцидентности соответствуют вершинам, столбцы — ребрам. В неографе матрица инцидентности I состоит из нулей и

единиц, а матрица смежности A симметричная:

$$I = \begin{bmatrix} 0 & 0 & 1 & 1 & 0 & 0 & 0 & 0 & 1 & 0 \\ 0 & 0 & 1 & 0 & 0 & 0 & 1 & 0 & 0 & 0 \\ 1 & 0 & 0 & 0 & 0 & 1 & 0 & 0 & 0 & 0 \\ 0 & 0 & 0 & 0 & 0 & 1 & 0 & 1 & 0 & 1 \\ 0 & 0 & 0 & 0 & 1 & 0 & 0 & 0 & 0 & 1 \\ 0 & 1 & 0 & 1 & 1 & 0 & 0 & 0 & 0 & 0 \\ 1 & 1 & 0 & 0 & 0 & 0 & 1 & 1 & 1 & 0 \end{bmatrix}, \quad A = \begin{bmatrix} 0 & 1 & 0 & 0 & 0 & 1 & 1 \\ 1 & 0 & 0 & 0 & 0 & 0 & 1 \\ 0 & 0 & 0 & 1 & 0 & 0 & 1 \\ 0 & 0 & 1 & 0 & 1 & 0 & 1 \\ 0 & 0 & 0 & 1 & 0 & 1 & 0 \\ 1 & 0 & 0 & 0 & 1 & 0 & 1 \\ 1 & 1 & 1 & 1 & 0 & 1 & 0 \end{bmatrix}.$$

Формула (4.1) будет проще, если рассмотреть некоторую *ориентацию графа*. Под ориентацией графа понимают орграф, получающийся заменой каждого ребра дугой произвольного направления. Рассмотрим, например, вариант, приведенный на рис. 4.36.

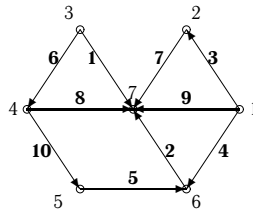


Рис. 4.36

Номера дуг на рисунке указаны полужирным шрифтом в соответствии с номерами ребер исходного графа. Матрица инцидентности I_1 ориентации графа имеет вид

$$I_1 = \begin{bmatrix} 0 & 0 & -1 & -1 & 0 & 0 & 0 & 0 & -1 & 0 \\ 0 & 0 & 1 & 0 & 0 & 0 & -1 & 0 & 0 & 0 \\ -1 & 0 & 0 & 0 & 0 & -1 & 0 & 0 & 0 & 0 \\ 0 & 0 & 0 & 0 & 0 & 1 & 0 & -1 & 0 & -1 \\ 0 & 0 & 0 & 0 & -1 & 0 & 0 & 0 & 0 & 1 \\ 0 & -1 & 0 & 1 & 1 & 0 & 0 & 0 & 0 & 0 \\ 1 & 1 & 0 & 0 & 0 & 0 & 1 & 1 & 1 & 0 \end{bmatrix}.$$

Сумма элементов в любом столбце этой матрицы всегда равна 0. Матрица Кирхгофа может быть вычислена по формуле

$$B = I_1 I_1^T. \quad (4.2)$$

Алгоритм Дж. Краскала построения остова минимального веса. Строим граф, присоединяя к пустому графу на множестве вершин заданного графа ребро наименьшего веса [10]. К полученному графу последовательно присоединяем остальные ребра, выбирая на каждом шаге ребро наименьшего веса, не образующее цикл с имеющимися

ребрами. В нашем случае начинаем с ребра весом 13 — наименьшего в графе. На рисунках 4.37–4.42 дана последовательность действий. Ребро весом 19 не включается в остов, так как оно образует цикл с ребрами весом 14 и 13.

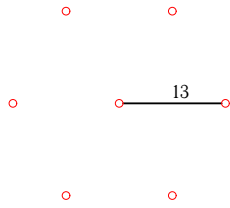


Рис. 4.37

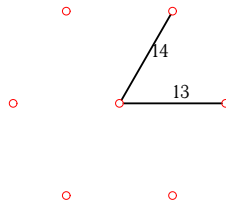


Рис. 4.38

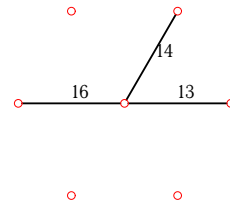


Рис. 4.39

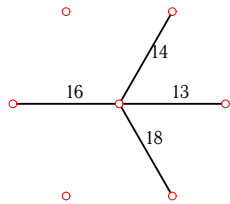


Рис. 4.40

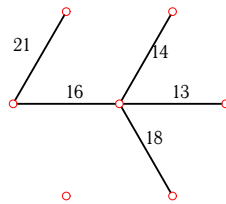


Рис. 4.41

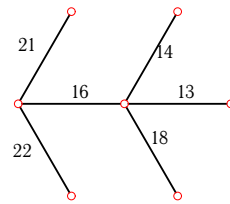


Рис. 4.42

Алгоритм ближайшего соседа построения остова минимального веса. Алгоритм Дж. Краскала требует на каждом шаге проверки на цикличность и предварительной сортировки ребер по весам, что затруднительно для графов с большим числом ребер. Несколько проще следующий алгоритм [13].

1. Отмечаем произвольную вершину графа, с которой начнется построение. Строим ребро наименьшего веса, инцидентное этой вершине.

2. Ищем ребро минимального веса, инцидентное одной из двух полученных вершин. В множество поиска не входит построенное ребро.

3. Продолжаем далее, разыскивая каждый раз ребро наименьшего веса, инцидентное построенным вершинам, не включая в круг поиска все ребра, их соединяющие.

В нашем примере начнем с вершины *A*. На рисунках 4.43–4.48 дана последовательность действий.

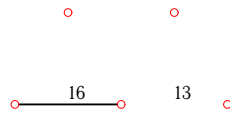


Рис. 4.43

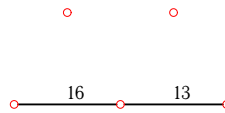


Рис. 4.44

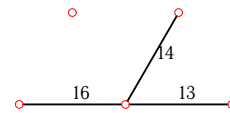


Рис. 4.45

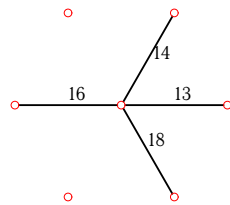


Рис. 4.46

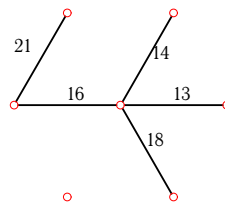


Рис. 4.47

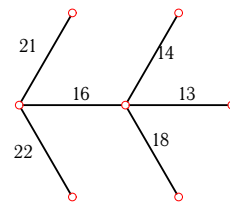


Рис. 4.48

Программа для **Maple**, использующая встроенные функции, дана на с. 138, программа с визуализацией процесса последовательного построения остова — на с. 141.

4.7. Гамильтоновы циклы

Простой цикл, проходящий через все вершины графа, называется *гамильтоновым*¹. Простая цепь, проходящая через все вершины графа, называется *гамильтоновой*.

Задача нахождения гамильтоновых циклов получила свое развитие в связи с рядом практических задач. Одной из них является так называемая *задача коммивояжера*, в которой определяется кратчайший гамильтонов цикл (см. с. 84).

В отличие от поиска эйлеровых циклов, проходящих через каждое ребро графа по одному разу, для которых еще Эйлером получено необходимое и достаточное условие существования цикла, для гамильтоновых циклов такого условия не найдено. Существуют, однако, достаточные условия существования гамильтоновых циклов.

Приведем несколько таких признаков [2].

¹В 1859 г. Уильям Гамильтон (Hamilton W.) предложил математическую игру-головоломку, связанную с обходом вершин додекаэдра, положив тем самым начало одному из самых известных направлений теории графов.