

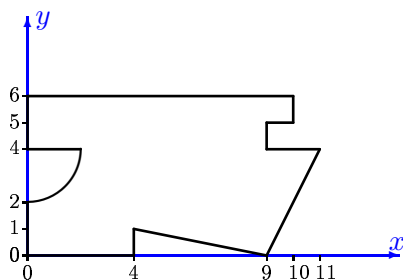
## Геометрические характеристики плоской фигуры

Найти главные моменты инерции (в  $\text{см}^4$ ) плоской фигуры. Отметки на осях даны в сантиметрах. Криволинейный участок контура является дугой половины или четверти окружности.

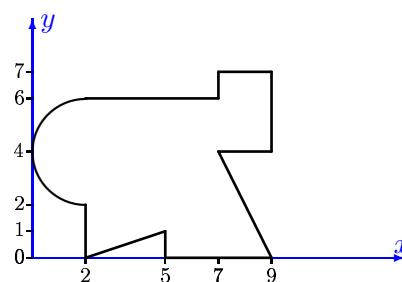
Кирсанов М.Н. **Решебник. Теоретическая механика**/Под ред. А. И. Кириллова.– М.: ФИЗМАТЛИТ, 2008. — 384 с. (с.118.)

**Задача 15.1.** Алексеев Ксения

Олеговна

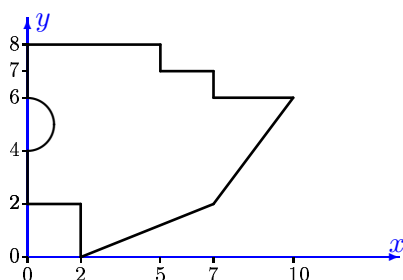


**Задача 15.2.** Бабой Юлия Николаевна



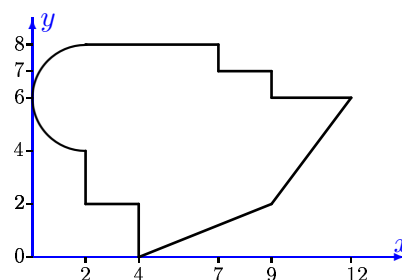
**Задача 15.3.** Булгакова Юлия

Владиславовна

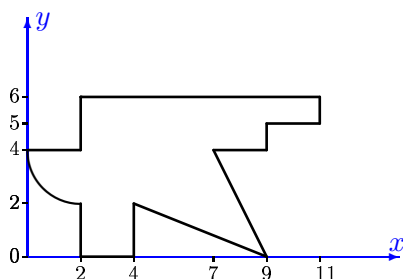


**Задача 15.4.** Бутырина Таисия

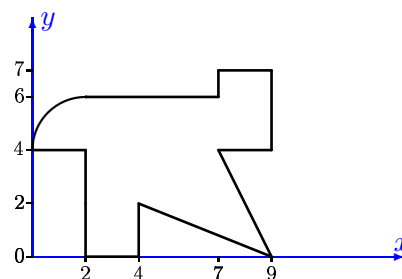
Анатольевна



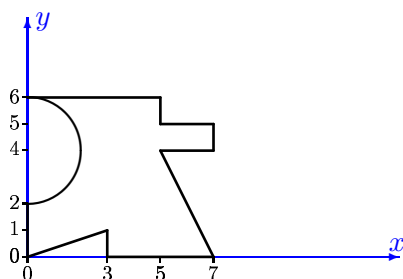
**Задача 15.5.** Ванин Кирилл Юрьевич



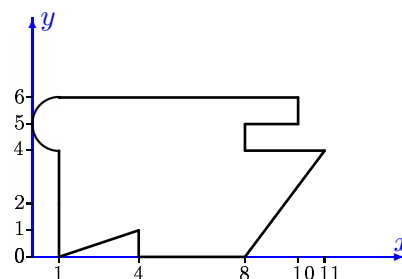
**Задача 15.6.** Витрук Ксения Павловна



**Задача 15.7.** Воронин Кирилл Сергеевич

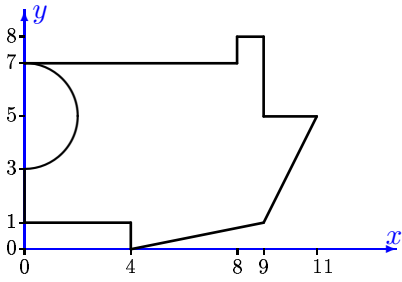


**Задача 15.8.** Жуманов Жан



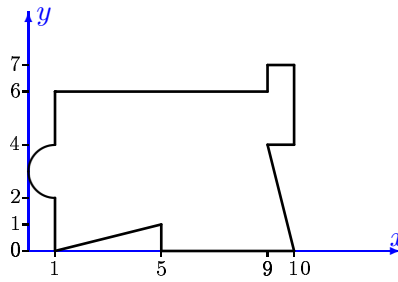
**Задача 15.9.**  
Александровна

Захарова Юлия



**Задача 15.10.**

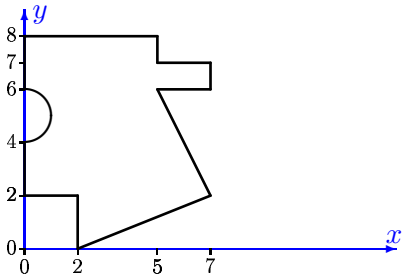
Кириллюк Грета



**Задача 15.11.**

Козлова Елизавета

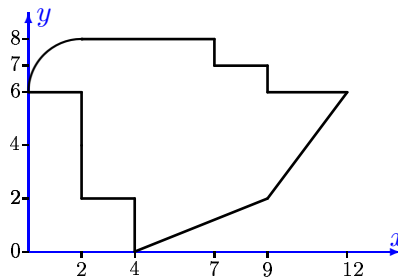
Евгеньевна



**Задача 15.12.**

Козловская Ирина

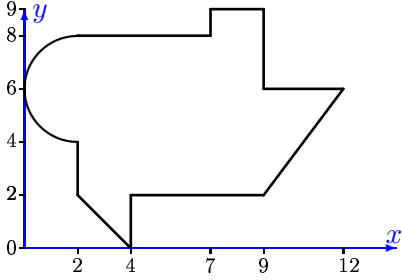
Викторовна



**Задача 15.13.**

Липшиц Ксения

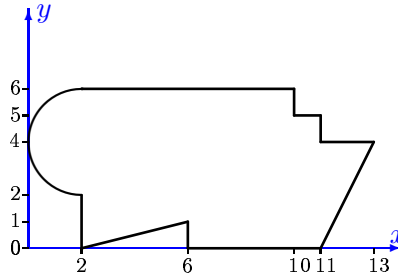
Евгеньевна



**Задача 15.14.**

Луценко Данила

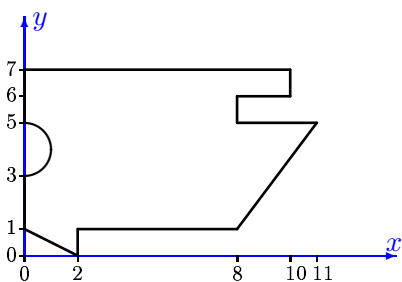
Олегович



**Задача 15.15.**

Миронова Арина

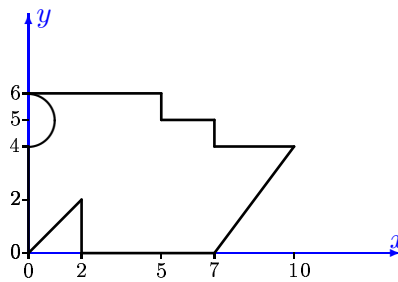
Андреевна



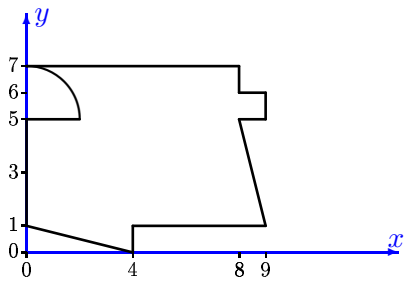
**Задача 15.16.**

Останин Илья

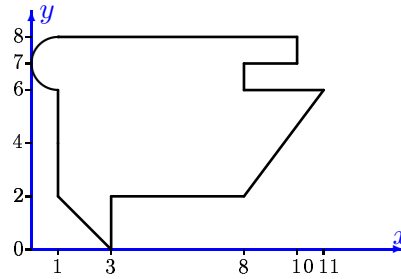
Алексеевич



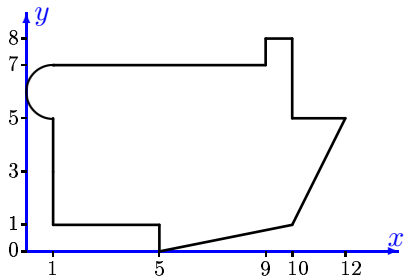
**Задача 15.17.** Пархоменко Ярослава



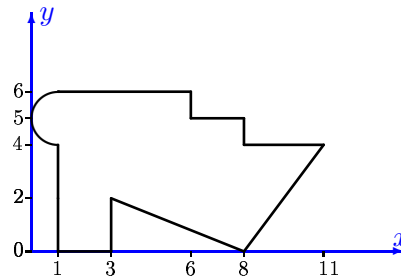
**Задача 15.18.** Пузова Ксения Романовна



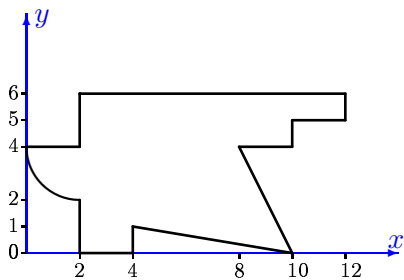
**Задача 15.19.** Смолин Арсений Евгеньевич



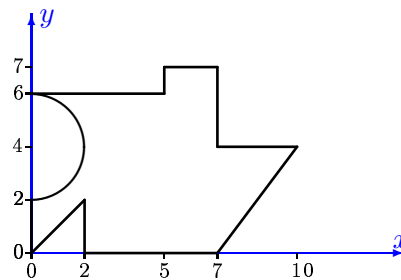
**Задача 15.20.** Тарасова Ольга Константиновна



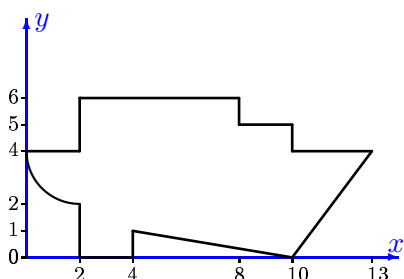
**Задача 15.21.** Хаустова Анастасия Васильевна



**Задача 15.22.** Храмов Алексей Алексеевич



**Задача 15.23.** Шаповаленко Виктория Игоревна



**Задача 15.24.** Шаронов Игорь Валерьевич

