

Пути в орграфе

Сколько в графе маршрутов длины 3?

Задача 4.1. *Грачёв Дмитрий*

Задача 4.2. *Коломиец Ярослав*

Задача 4.3. *Лапташкин Григорий*

Задача 4.4. *Майков Дмитрий*

Задача 4.5. *Оборин Дмитрий*

Задача 4.6. *Осокина Майя*

Задача 4.7. *Переверзев Михаил Ильич*

Задача 4.8. *Ратников Матвей*

Задача 4.9. *Семенякина Елизавета*

Задача 4.10. *Снегирев Иван*

Задача 4.11. *Толужкин Ростислав*

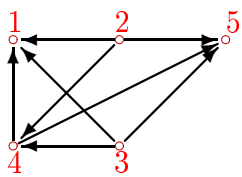
Задача 4.12. *Турчанинов Никита*

Задача 4.13. *Чистяков Евгений*

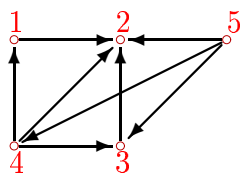
Задача 4.14. *Чугреев Никита*

Задача 4.15.

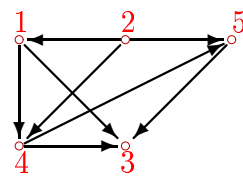
Задача 4.16.



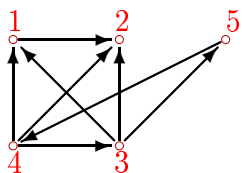
Задача 4.17.



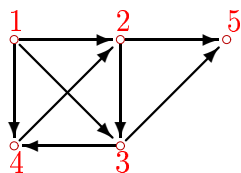
Задача 4.18.



Задача 4.19.



Задача 4.20.



Задача 4.21.

