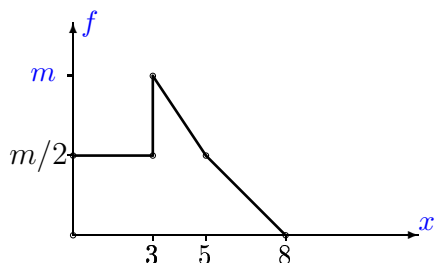


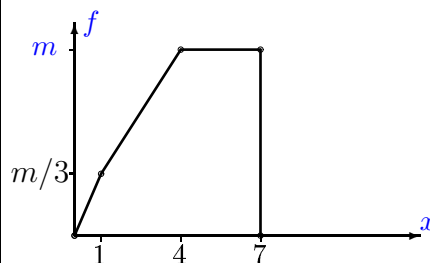
Математическое ожидание непрерывной случайной величины

Найти математическое ожидание и дисперсию случайной величины, плотность распределения вероятности которой задана на графике.

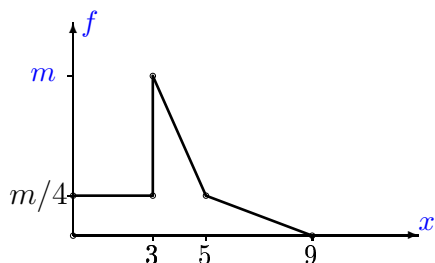
Задача 28.1. *Алексахин Антон*



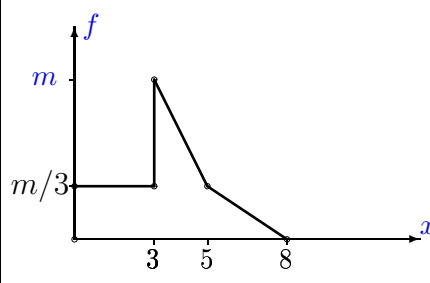
Задача 28.2. *Балов Артём Игоревич*



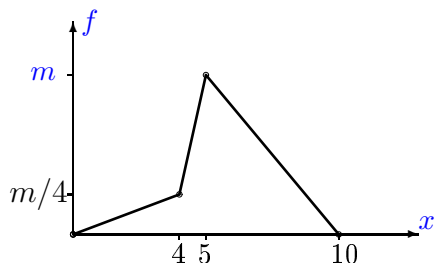
Задача 28.3. *Белоусов Георгий Михайлович*



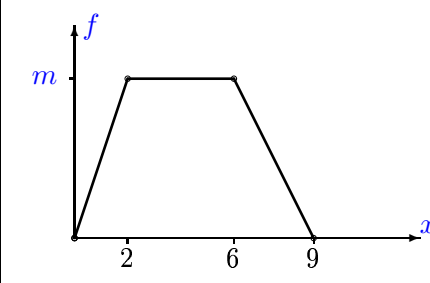
Задача 28.4. *Бондаренко Андрей*



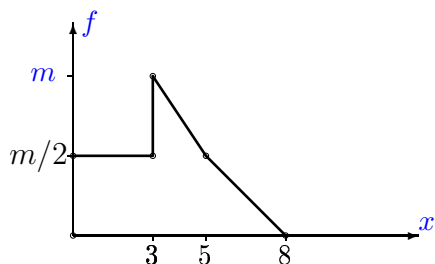
Задача 28.5. *Гильманов Булат Наильевич*



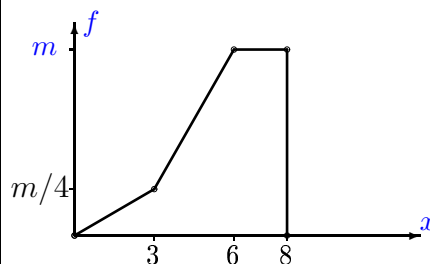
Задача 28.6. *Егоров Всеволод Кириллович*



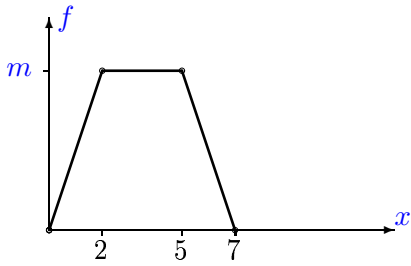
Задача 28.7. *Журавлева Анастасия*



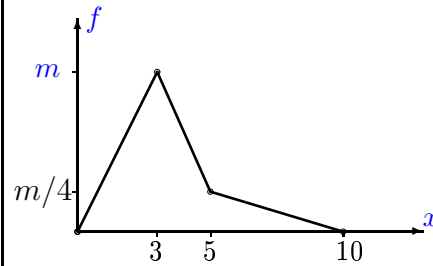
Задача 28.8. *Зубрильчев Даниил*



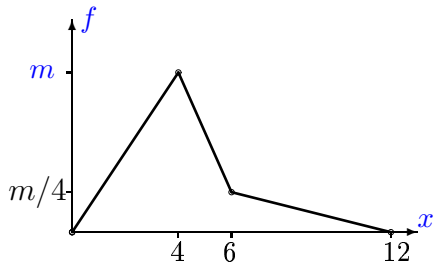
Задача 28.9. *Изотов Роман Игоревич*



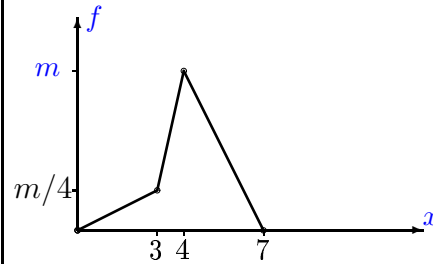
Задача 28.10. *Луканин Александр Сергеевич*



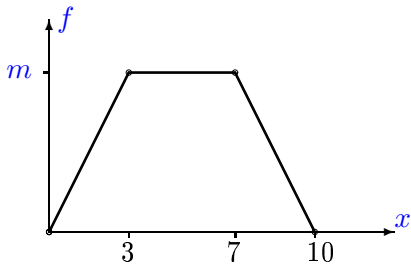
Задача 28.11. *Семенов Дмитрий Сергеевич*



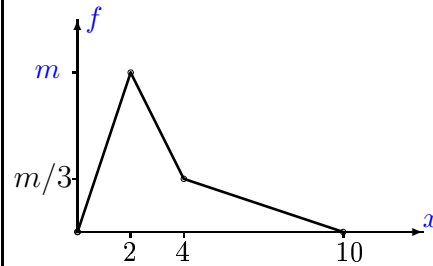
Задача 28.12. *Степанова Светлана*



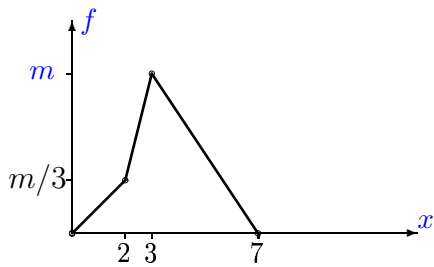
Задача 28.13. *Уткин Артем Евгеньевич*



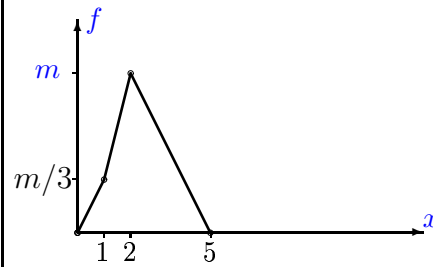
Задача 28.14. *Храпов Иван Николаевич*



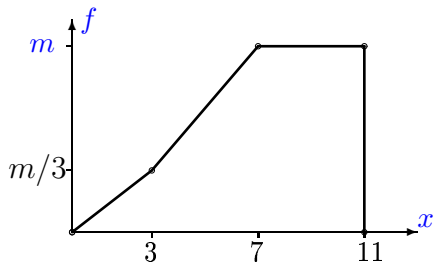
Задача 28.15. *Чернышев Егор Вадимович*



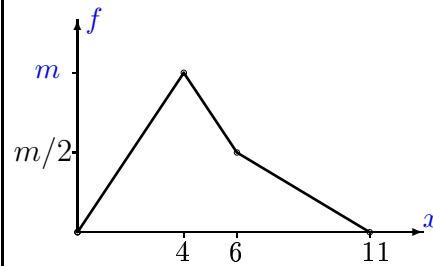
Задача 28.16.



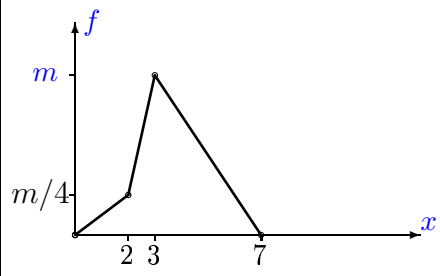
Задача 28.17.



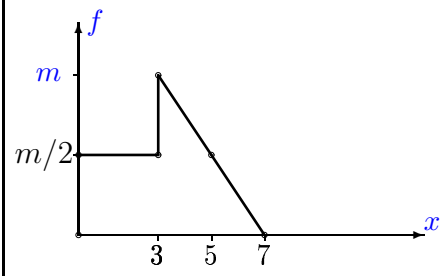
Задача 28.18.



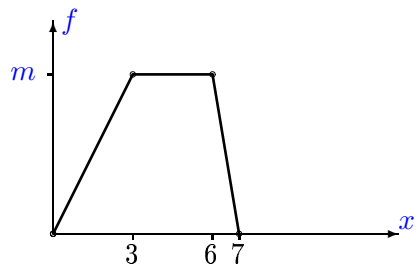
Задача 28.19.



Задача 28.20.



Задача 28.21.



Задача 28.22.

